

1

- (1) (2) (3) (4)
 (5) (6) (7) (8) (9)
 (10)

2

- (1) A B C D (2) 帯

3

- 問1 問2 問3 問4
 問5 問6 問7 濃尾 問8
 問6 : 順不同・完答
 問9 (1) 輪 中 (2)

4






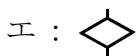
- 問1 院 問2 m 問3 (県)
 問4 問5 線 問6

5

- A B C D E






6

- A B C D

- 1
- (2) ア：沖縄県 イ：最東端 (東京都) ウ：最北端 (北海道) エ：最南端 (東京都)
- (4) ア： イ： ウ：
- (5) ア： イ： エ：
- (6) イ：昭和の日 ウ：憲法記念日 エ：勤労感謝の日
- (7) ア：2月3日ごろ (2021年は2月2日) ウ：3月3日 エ：7月7日
- (9) 夏の季節風は南東から吹いてきます。
- (10) 降水量の少ない瀬戸内地方などでおこる災害です。

- 2
- (1) A：日本海側の気候 (冬の降水量が多い)
 B：中央高地の気候 (1年を通して降水量が少ない、夏と冬の気温差が大きく1月の気温が0℃以下)
 C：太平洋側の気候 (夏の降水量が多い)
 D：北海道の気候 (梅雨がなく6月～7月の降水量が少ない、冬の寒さが厳しく12月～2月の気温が0℃以下)

- 3
- 問1 ア：山梨県 イ：栃木県 エ：岐阜県
- 問2 イ：長野県と群馬県の境目にあります。群馬県側のふもとにある嬭恋村ではキャベツの栽培がさかんです。
 ウ：山梨県と静岡県の境目にある、日本で最も高い山。
 エ：鳥取県にある、中国地方で最も高い山。
- 問5 イ：根釧台地 (北海道) の説明です。 ウ：甲府盆地 (山梨県) の説明です。
 エ：石狩平野 (北海道) の説明です
- 問8 ウ：天竜川は長野県の諏訪湖を水源として静岡県の西部を流れ、河口の近くに浜名湖がある川です。

- 4
- 問2 縮尺が2万5千分の1なので、 $4\text{cm} \times 25000 = 100000\text{cm} = 1000\text{m}$ となります。
- 問3 地図Bが松江市であることから、島根県の地図だとわかります。
- 問6 エ：針葉樹 () や広葉樹 ()、荒れ地 ()、竹林 () は見られますが、果樹園 () は見られません。

- 5
- 島については、形とどこの都道府県に属しているのかを地図帳で確認しておきましょう。
- ア：兵庫県 (たまねぎの栽培がさかん) イ：鹿児島県 (世界自然遺産) ウ・エ：北海道 (北方領土)
 オ：香川県 (オリーブの栽培がさかん) カ：鹿児島県 キ：新潟県 ク：長崎県

- 6
- A：室内の床を四角く切って開け、炭や薪を燃やすことで暖をとったり煮炊きをしたりする。
- B：薪を燃やす際に火を囲うことで、熱を逃がさず高温の炎でご飯を炊いたりお湯をわかしたりする。
- C：炭を使って、魚などを焼く。
- D：水を入れるための底の深い陶器。