

# 小3 社会特訓

No. 7

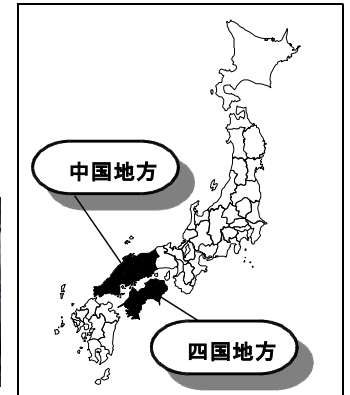
今日のテーマ  
「日本の地方(2)」

教室		氏名	
----	--	----	--

☆ 今回は「中国地方」と「四国地方」のおもな都道府県を見てみましょう！

## <中国地方>

この地方は、本州の西のはしにあり、5つの県で構成されています。今日はこのうち3つの県について見ていきましょう！



### ① 岡山県

瀬戸内海に面した「山陽地方」にあり、晴天の日が多いことから「晴れの国」ともよばれています。その気候をいかした、ブドウやモモなどの果物の栽培がさかんで、とくにブドウの品種である（1）は有名です。



### ② 広島県

中国地方で1番面積が広く、1番人口が多い県です。厳島神社と（2）が世界文化遺産に登ろくされ、多くの観光客が訪れます。広島湾には多くのいかだが浮かべられており、そこではかきが多く養しょくされています。



### ③ 島根県

昔の国名は出雲国と石見国です。「縁結びの神様」として知られる出雲大社には多くの参詣者が訪れます。かつては多くの銀を産出していた石見銀山は世界文化遺産に登ろくされています。宍道湖では（3）がよくとれます。




## <四国地方>

この地方は、「四国」という日本で4番目に広い島とその周りの島々からなり、4つの県で構成されています。今日は、このうち2つの県について見ていきましょう！

### ④ 香川県

日本で一番面積がせまい都道府県です。(4) 大橋  
で対岸の岡山県と結ばれています。雨が少ない地域で、多くのため池がつくられてきました。小麦を原料とするうどんが有名で、昔の国名から名付けた「讃岐うどん」は名産品になっています。



### ⑤ 愛媛県

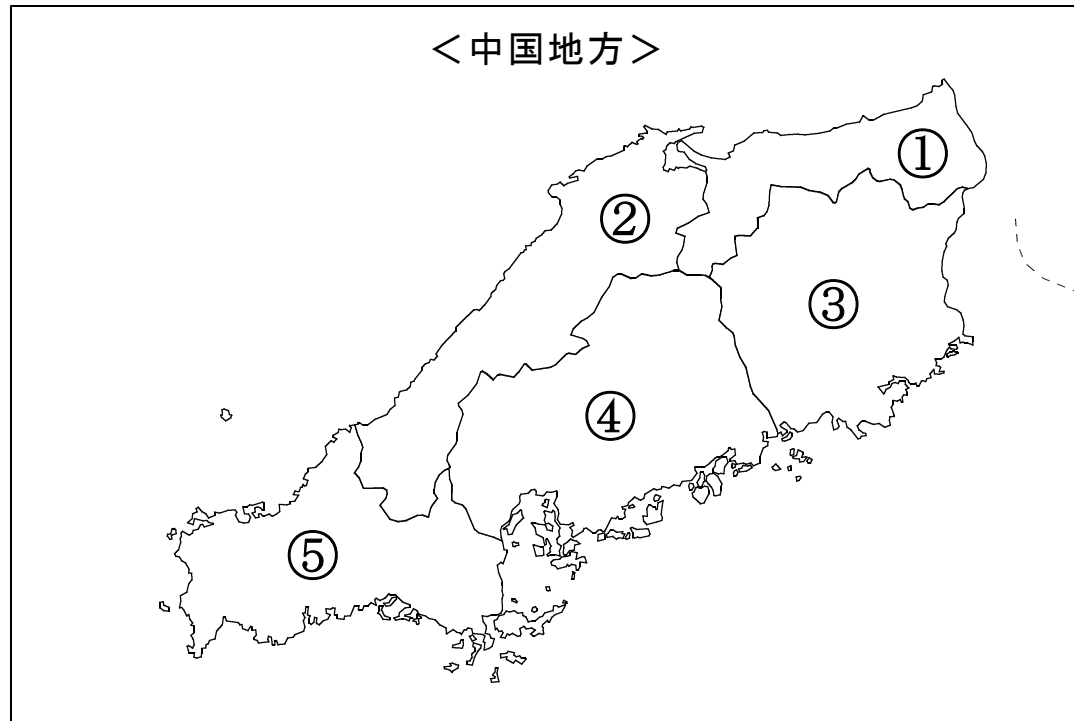
海沿いの山のしゃ面につくった(5) 畑では、みかんやいよかん、キウイフルーツなどの果物の栽培がさかんです。タオルの生産で有名な今治市は、いくつかの橋によって対岸の広島県尾道市と結ばれ、これは「瀬戸内しまなみ海道」とよばれます。



「四国」はどんな形をしているかな？  
『地図帳』を見ながら描いてみよう！

# <本日学習した「地方」>

※ 「地図帳」で調べて、都道府県の名前を書いてみよう。



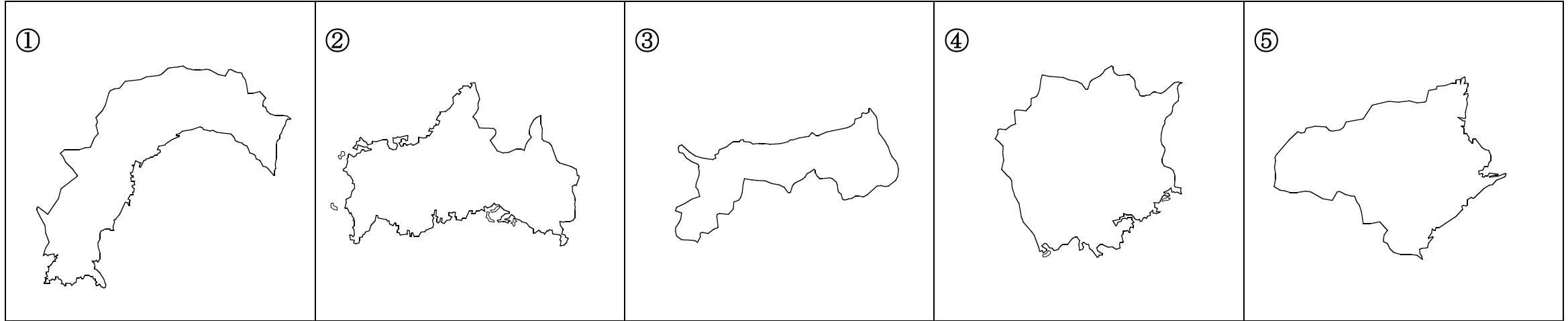
## <都道府県名>

- ① (            )    ② (            )  
③ (            )    ④ (            )  
⑤ (            )

- ⑥ (            )    ⑦ (            )  
⑧ (            )    ⑨ (            )

<かだめし> 

図①～⑤は何県かな？ 地図帳で調べながらでも良いので考えてみよう！！



( ) 県 ( ) 県 ( ) 県 ( ) 県 ( ) 県

<テキストの答え>

- 1 : マスカット    2 : 原爆<sup>げんぱく</sup>ドーム    3 : しじみ  
4 : 瀬戸<sup>せと</sup>    5 : だんだん

< P 3 の答え >

- ① 鳥取県    ② 島根県    ③ 岡山県    ④ 広島県    ⑤ 山口県  
⑥ 香川県    ⑦ 徳島<sup>とくしま</sup>県    ⑧ 愛媛県    ⑨ 高知県

<力だめしの答え>

- ① 高知県    ② 山口県    ③ 鳥取県    ④ 岡山県    ⑤ 徳島県